

















Nome: _____ 2º Ano _____

MATEMÁTICA

LIGUE OS OBJETOS AS FORMAS ESPACIAIS

ENCONTRE OS OBJETOS QUE TEM A FORMA DE UM CILINDRO E PINTE-OS.



RESOLVA AS ADIÇÕES E LIGUE AS RESPOSTAS

$4+7$

11

9

$5+4$

$5+6$

12

10

$7+3$

$8+7$

18

14

$9+5$


$9+9$

15

16

$8+8$

RESOLVA AS SUBTRAÇÕES

$5 - 4 =$	$6 - 4 =$	$8 - 7 =$
$9 - 3 =$	$5 - 0 =$	$7 - 3 =$
$8 - 6 =$	$4 - 3 =$	
$7 - 7 =$	$9 - 1 =$	