

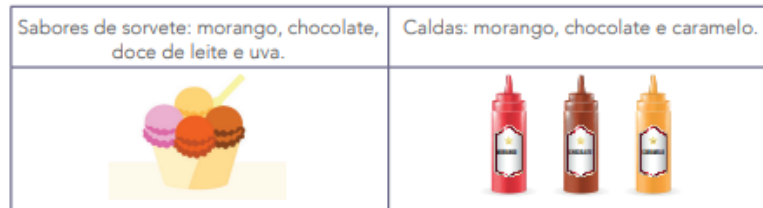


GOVERNO DO ESTADO DE SÃO PAULO
SECRETARIA DE ESTADO DA EDUCAÇÃO
DIRETORIA DE ENSINO REGIÃO GUARULHOS NORTE – DER GNO
E.E. “JARDIM SANTA LÍDIA”

Rua José Nilson Ferreti, nº 62 – Jardim Santa Lídia – Guarulhos – Tel. 2407-6576

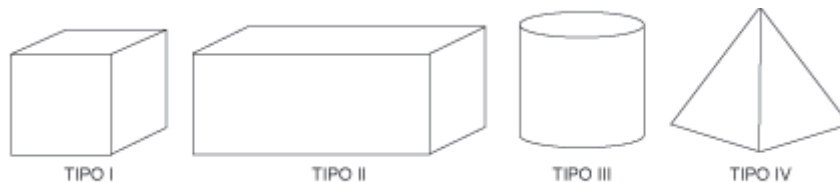
Semana de estudos intensivos (SEI) – Matemática

1) No cardápio da sorveteria, há 4 opções de sabores de sorvetes: morango, chocolate, doce de leite e uva; e 3 variedades de caldas: morango, chocolate e caramelo. De quantas maneiras diferentes é possível solicitar um sorvete, escolhendo um sabor e uma das variedades de chocolate para a cobertura?



- a) 7 maneiras
- b) 8 maneiras
- c) 10 maneiras
- d) 12 maneiras

2) Fabiana trabalha numa fábrica de caixas. Observe as caixas que Fabiana fabricou.



As caixas mais vendidas para colocar bombons têm a forma de cubos e paralelepípedos. Quais são elas?

- a) Tipo I e II
- b) Tipo I e III
- c) Tipo II e III
- d) Tipo II e IV

3) A tabela a seguir mostra o número de pessoas que fizeram uma refeição no restaurante “Cantinho do sabor”:

DATA	NÚMERO DE PESSOAS
julho	226
agosto	279
setembro	325
outubro	149
novembro	193

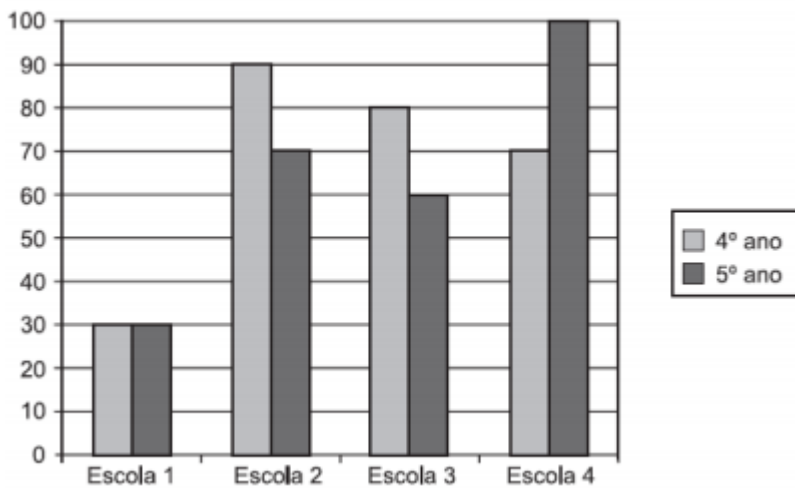
Conforme a tabela, o total de pessoas que fizeram refeição nos meses de julho, agosto e setembro foram:

- a) 342 pessoas
- b) 730 pessoas
- c) 830 pessoas
- d) 1172 pessoas

4) Antônia foi à mercearia e comprou um pacote de arroz que custou R\$ 3,20. Ela pagou sua compra com uma nota de R\$ 5,00. O troco que Antônia recebeu foi de:

- a) R\$ 0,80
- b) R\$ 1,00
- c) R\$ 1,20
- d) R\$ 1,80

5) No gráfico abaixo são apresentados dados sobre o número de alunos do 4º e do 5º ano de quatro escolas. Em qual dessas escolas há o maior número de alunos no 5º ano?



- a) Escola 1.
- b) Escola 2.
- c) Escola 3.
- d) Escola 4.