



ESTUDO INTENSIVO DE MATEMÁTICA

3º ANO

PROBLEMATIZANDO

- ✎ Raquel colocou 3 bombons em cada pacote.
Quantos bombons há em 7 pacotes?



Operação

Resposta: _____


- ✎ Um cão tem 4 patas.
Quantas patas tem 8 cães?



Operação

Resposta: _____


- ✎ Papai lê 2 folhas de um livro por hora.
Quantas folhas do livro papai lerá em 5 horas?



Operação

Resposta: _____

- 1) Uma professora pediu que os alunos trouxessem tampinhas de garrafas. Ana trouxe 28 tampinhas de garrafas e Clara trouxe 35. Quantas tampinhas de garrafas Clara trouxe a mais do que Ana?
- 2) Samuel jogou bafo ontem e ganhou um total de 27 figurinhas. Ele jogou duas partidas. Na primeira ele ganhou 22 figurinhas. Quantas figurinhas ele ganhou na segunda partida?
- 3) Faça um X no objeto com forma de cilindro.

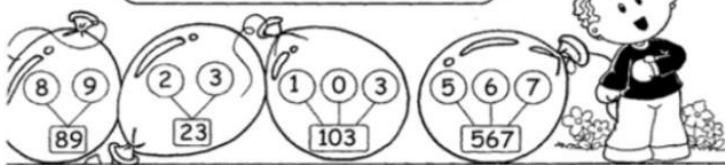


- 4) Carlos está juntando dinheiro para participar de um passeio com a turma da escola. Ele já juntou 25,00 e ainda faltam 36,00. Quanto ele vai pagar neste passeio?
- 5) Escreva números nos dois quadradinhos abaixo para que a soma seja igual a 24. Atenção: os dois números devem ser iguais.

$$\square + \square = 24$$


A idéia de quantidade é chamada de número natural.
Os dez menores números naturais são: 0, 1, 2, 3, 4, 5, 6, 7, 8 e 9.

Com estes algarismos, podemos representar qualquer número:



Atividades

❖ Represente oito números usando os seguintes algarismos:



❖ Responda, escrevendo no pontilhado:

- Sou um a menos que 290. Sou o
- Fico entre o 617 e o 619. Sou o
- Sou um a mais que 314. Sou o
- Venho antes do 500. Sou o



Bons estudos!!!